

Monsieur Hubert est technicien en électronique industrielle et responsable de la formation des jeunes informaticiens.

Voici, pour l'année 2014, les périodes pendant lesquelles il ne pouvait absolument pas se libérer :

Formation des informaticiens :

Gembloux	Du lundi 3 février au vendredi 7 février
Libramont	Du mardi 25 mars au samedi 29 mars
Liège	Du lundi 30 juin au vendredi 4 juillet
Charleroi	Du lundi 28 juillet au vendredi 1 <sup>er</sup> août
Wavre	Du lundi 13 octobre au vendredi 17 octobre

Rencontres avec les collègues formateurs :

Chaque lundi entre le 14 avril et le 27 juin (sauf jours fériés)

Formation personnelle à l'étranger :

Zurich	Du jeudi 13 février au jeudi 20 février
Toulouse	Du mercredi 22 octobre au mercredi 29 octobre

Participation au salon international de l'informatique

Paris Du jeudi 10 juillet au dimanche 20 juillet

1. Sur le calendrier de l'année 2014 de la fiche O2, colorie ces différentes périodes en bleu.

2. En 2014, Monsieur Hubert a profité des vacances scolaires pour partir deux fois en voyage avec son épouse et leurs deux enfants de 10 et 12 ans :

Le voyage en Grèce a duré 22 jours.

Cela a été possible du \_\_\_\_\_ au \_\_\_\_\_  
ou du \_\_\_\_\_ au \_\_\_\_\_

Le voyage en Italie a duré 8 jours.

Cela a été possible du \_\_\_\_\_ au \_\_\_\_\_  
ou du \_\_\_\_\_ au \_\_\_\_\_



# L'agenda de Monsieur Hubert

corrigé

Monsieur Hubert est technicien en électronique industrielle et responsable de la formation des jeunes informaticiens.

Voici, pour l'année 2014, les périodes pendant lesquelles il ne pouvait absolument pas se libérer :

Formation des informaticiens :

Gembloux	Du lundi 3 février au vendredi 7 février
Libramont	Du mardi 25 mars au samedi 29 mars
Liège	Du lundi 30 juin au vendredi 4 juillet
Charleroi	Du lundi 28 juillet au vendredi 1 <sup>er</sup> août
Wavre	Du lundi 13 octobre au vendredi 17 octobre

Rencontres avec les collègues formateurs :

Chaque lundi entre le 14 avril et le 27 juin (sauf jours fériés)

Formation personnelle à l'étranger :

Zurich	Du jeudi 13 février au jeudi 20 février
Toulouse	Du mercredi 22 octobre au mercredi 29 octobre

Participation au salon international de l'informatique

Paris Du jeudi 10 juillet au dimanche 20 juillet

1. Sur le calendrier de l'année 2014 de la fiche O2, colorie ces différentes périodes en bleu.

2. En 2014, Monsieur Hubert a profité des vacances scolaires pour partir deux fois en voyage avec son épouse et leurs deux enfants de 10 et 12 ans :

Le voyage en Grèce a duré 22 jours.

**Toutes propositions acceptables entre le 2 et le 31 août**

Le voyage en Italie a duré 8 jours.

**Toutes propositions acceptables entre le 5 et le 13 avril**

**le 20 décembre et le 4 janvier 2015**



Colorie en bleu les périodes d'activités programmées de Monsieur Hubert.

## Congés scolaires

### Année 2013 - 2014

- vendredi 27 septembre 2013
- du lundi 28 octobre au vendredi 1<sup>er</sup> novembre 2013
- lundi 11 novembre 2013
- du lundi 23 décembre 2013 au vendredi 3 janvier 2014
- du lundi 3 mars au vendredi 7 mars 2014
- du lundi 7 avril au vendredi 18 avril 2014
- lundi 21 avril 2014
- jeudi 1<sup>er</sup> mai 2014
- jeudi 29 mai 2014
- lundi 9 juin 2014
- du mardi 1<sup>er</sup> juillet au vendredi 29 août 2014

### Année 2014 - 2015

- du lundi 27 octobre au vendredi 31 octobre 2014
- mardi 11 novembre 2014
- du lundi 22 décembre 2014 au vendredi 2 janvier 2015
- du lundi 16 février au vendredi 20 février 2015
- du lundi 6 avril au vendredi 17 avril 2015
- vendredi 1<sup>er</sup> mai 2015
- jeudi 14 mai 2015
- lundi 25 mai 2015
- du mercredi 1<sup>er</sup> juillet au lundi 31 août 2015

2014																											
JANVIER							FEVRIER							MARS													
LUN	MAR	MER	JEU	VEN	SAM	DIM	LUN	MAR	MER	JEU	VEN	SAM	DIM	LUN	MAR	MER	JEU	VEN	SAM	DIM							
			1	2	3	4	5						1	2							1	2					
6	7	8	9	10	11	12	3	4	5	6	7	8	9	3	4	5	6	7	8	9							
13	14	15	16	17	18	19	10	11	12	13	14	15	16	10	11	12	13	14	15	16							
20	21	22	23	24	25	26	17	18	19	20	21	22	23	17	18	19	20	21	22	23							
27	28	29	30	31	24	25	26	27	28	24	25	26	27	28	29	30	31										
AVRIL							MAI							JUIN													
LUN	MAR	MER	JEU	VEN	SAM	DIM	LUN	MAR	MER	JEU	VEN	SAM	DIM	LUN	MAR	MER	JEU	VEN	SAM	DIM							
		1	2	3	4	5	6				1	2	3	4							1						
7	8	9	10	11	12	13	5	6	7	8	9	10	11	2	3	4	5	6	7	8							
14	15	16	17	18	19	20	12	13	14	15	16	17	18	9	10	11	12	13	14	15							
21	22	23	24	25	26	27	19	20	21	22	23	24	25	16	17	18	19	20	21	22							
28	29	30	26	27	28	29	30	31	23	24	25	26	27	28	29	30											
JUILLET							AOÛT							SEPTEMBRE													
LUN	MAR	MER	JEU	VEN	SAM	DIM	LUN	MAR	MER	JEU	VEN	SAM	DIM	LUN	MAR	MER	JEU	VEN	SAM	DIM							
		1	2	3	4	5	6					1	2	3							1	2	3	4	5	6	7
7	8	9	10	11	12	13	4	5	6	7	8	9	10	8	9	10	11	12	13	14							
14	15	16	17	18	19	20	11	12	13	14	15	16	17	15	16	17	18	19	20	21							
21	22	23	24	25	26	27	18	19	20	21	22	23	24	22	23	24	25	26	27	28							
28	29	30	31	25	26	27	28	29	30	31	29	30															
OCTOBRE							NOVEMBRE							DECEMBRE													
LUN	MAR	MER	JEU	VEN	SAM	DIM	LUN	MAR	MER	JEU	VEN	SAM	DIM	LUN	MAR	MER	JEU	VEN	SAM	DIM							
			1	2	3	4	5						1	2							1	2	3	4	5	6	7
6	7	8	9	10	11	12	3	4	5	6	7	8	9	8	9	10	11	12	13	14							
13	14	15	16	17	18	19	10	11	12	13	14	15	16	15	16	17	18	19	20	21							
20	21	22	23	24	25	26	17	18	19	20	21	22	23	22	23	24	25	26	27	28							
27	28	29	30	31	24	25	26	27	28	29	30	29	30	31													

# Le calendrier de Monsieur Hubert

corrigé

Colorie en bleu les périodes d'activités programmées de Monsieur Hubert.

## Congés scolaires

### Année 2013 - 2014

- vendredi 27 septembre 2013
- du lundi 28 octobre au vendredi 1<sup>er</sup> novembre 2013
- lundi 11 novembre 2013
- du lundi 23 décembre 2013 au vendredi 3 janvier 2014
- du lundi 3 mars au vendredi 7 mars 2014
- du lundi 7 avril au vendredi 18 avril 2014
- lundi 21 avril 2014
- jeudi 1<sup>er</sup> mai 2014
- jeudi 29 mai 2014
- lundi 9 juin 2014
- du mardi 1<sup>er</sup> juillet au vendredi 29 août 2014

### Année 2014 - 2015

- du lundi 27 octobre au vendredi 31 octobre 2014
- mardi 11 novembre 2014
- du lundi 22 décembre 2014 au vendredi 2 janvier 2015
- du lundi 16 février au vendredi 20 février 2015
- du lundi 6 avril au vendredi 17 avril 2015
- vendredi 1<sup>er</sup> mai 2015
- jeudi 14 mai 2015
- lundi 25 mai 2015
- du mercredi 1<sup>er</sup> juillet au lundi 31 août 2015

2014																						
JANVIER							FEBRIER							MARS								
LUN	MAR	MER	JEU	VEN	SAM	DIM	LUN	MAR	MER	JEU	VEN	SAM	DIM	LUN	MAR	MER	JEU	VEN	SAM	DIM		
			1	2	3	4	5						1	2							1	2
6	7	8	9	10	11	12	3	4	5	6	7	8	9	3	4	5	6	7	8	9		
13	14	15	16	17	18	19	10	11	12	13	14	15	16	10	11	12	13	14	15	16		
20	21	22	23	24	25	26	17	18	19	20	21	22	23	17	18	19	20	21	22	23		
27	28	29	30	31			24	25	26	27	28			24	25	26	27	28	29	30		
														31								
AVRIL							MAI							JUIN								
LUN	MAR	MER	JEU	VEN	SAM	DIM	LUN	MAR	MER	JEU	VEN	SAM	DIM	LUN	MAR	MER	JEU	VEN	SAM	DIM		
			1	2	3	4	5	6				1	2	3	4							1
7	8	9	10	11	12	13	5	6	7	8	9	10	11	2	3	4	5	6	7	8		
14	15	16	17	18	19	20	12	13	14	15	16	17	18	9	10	11	12	13	14	15		
21	22	23	24	25	26	27	19	20	21	22	23	24	25	16	17	18	19	20	21	22		
28	29	30					26	27	28	29	30	31	23	24	25	26	27	28	29			
														30								
JUILLET							AOÛT							SEPTEMBRE								
LUN	MAR	MER	JEU	VEN	SAM	DIM	LUN	MAR	MER	JEU	VEN	SAM	DIM	LUN	MAR	MER	JEU	VEN	SAM	DIM		
											1	2	3	1	2	3	4	5	6	7		
	1	2	3	4	5	6	4	5	6	7	8	9	10	8	9	10	11	12	13	14		
7	8	9	10	11	12	13	11	12	13	14	15	16	17	15	16	17	18	19	20	21		
14	15	16	17	18	19	20	18	19	20	21	22	23	24	22	23	24	25	26	27	28		
21	22	23	24	25	26	27	25	26	27	28	29	30	31	29	30							
28	29	30	31																			
OCTOBRE							NOVEMBRE							DECEMBRE								
LUN	MAR	MER	JEU	VEN	SAM	DIM	LUN	MAR	MER	JEU	VEN	SAM	DIM	LUN	MAR	MER	JEU	VEN	SAM	DIM		
			1	2	3	4	5						1	2	1	2	3	4	5	6	7	
6	7	8	9	10	11	12	3	4	5	6	7	8	9	8	9	10	11	12	13	14		
13	14	15	16	17	18	19	10	11	12	13	14	15	16	15	16	17	18	19	20	21		
20	21	22	23	24	25	26	17	18	19	20	21	22	23	22	23	24	25	26	27	28		
27	28	29	30	31			24	25	26	27	28	29	30	29	30	31						

Madame Pernelle, titulaire de la classe de 6<sup>e</sup> année primaire, accompagne ses élèves en classe de neige à Valloire (Alpes françaises) du lundi 13 au vendredi 17 janvier 2014. Le voyage s'effectue en car et de nuit, aussi bien à l'aller qu'au retour.

L'arrivée dans la station de sports d'hiver est prévue, le lundi vers 10 h 30. Le vendredi 20 le départ est fixé à 17 h 00.

## Horaire quotidien de ce séjour

Lever à 7 h 30  
Toilette de 7 h 30 à 8 h 00  
Temps libre de 8 h 00 à 8 h 30  
Petit déjeuner de 8 h 30 à 9 h 00  
Repas de midi de 12 h 00 à 13 h 00  
Temps libre de 13 h 00 à 13 h 30  
Temps libre de 18 h 00 à 18 h 30  
Douche entre 18 h 30 et 19 h 00  
Repas du soir de 19 h 00 à 20 h 00  
Veillée de 20 h 00 à 21 h 00  
Coucher à 21 h 00

## Activités programmées

Leçons de ski :  
chaque jour de 09 h 30 à 11 h 30  
et de 14 h 00 à 15 h 00  
sauf lundi matin, mercredi après-midi  
et vendredi après-midi.

Visite de Grenoble :  
Mercredi de 14 h 30 à 16 h 30  
Prévoir une heure de déplacement  
en car à l'aller comme au retour.

1. La fiche **04** reprend l'horaire de cette semaine de neige.

Colorie :      en vert : les périodes de déplacement en car  
                  en jaune : les périodes réservées aux repas  
                  en bleu : les périodes réservées aux leçons de ski  
                  en rouge : les moments de temps libre  
                  en gris : les moments réservés à la toilette corporelle

2. Avant et après les leçons de ski, une période reste libre.

Selon toi, quelle en est la raison ?

---

3. A ton avis, que se passe-t-il le lundi entre 10 h 30 et 12 h 00 ?

---

Et le vendredi entre 13 h 30 et 17 h 00 ?

---

4. Madame Pernelle souhaite organiser 10 heures d'activités scolaires au cours de cette semaine.

Trace des croix dans les plages horaires qu'elle pourrait utiliser.

# Classe de neige

corrigé

Madame Pernelle, titulaire de la classe de 6<sup>e</sup> année primaire, accompagne ses élèves en classe de neige à Valloire (Alpes françaises) du lundi 13 au vendredi 17 janvier 2014. Le voyage s'effectue en car et de nuit, aussi bien à l'aller qu'au retour.

L'arrivée dans la station de sports d'hiver est prévue, le lundi vers 10 h 30.  
Le vendredi 20 le départ est fixé à 17 h 00.z

## Horaire quotidien de ce séjour

Lever à 7 h 30  
Toilette de 7 h 30 à 8 h 00  
Temps libre de 8 h 00 à 8 h 30  
Petit déjeuner de 8 h 30 à 9 h 00  
Repas de midi de 12 h 00 à 13 h 00  
Temps libre de 13 h 00 à 13 h 30  
Temps libre de 18 h 00 à 18 h 30  
Douche entre 18 h 30 et 19 h 00  
Repas du soir de 19 h 00 à 20 h 00  
Veillée de 20 h 00 à 21 h 00  
Coucher à 21 h 00

## Activités programmées

Leçons de ski :

chaque jour de 09 h 30 à 11 h 30  
et de 14 h 00 à 15 h 00

sauf lundi matin, mercredi après-midi  
et vendredi après-midi.

Visite de Grenoble :

Mercredi de 14 h 30 à 16 h 30

Prévoir une heure de déplacement  
en car à l'aller comme au retour.

1. La fiche **O 4** reprend l'horaire de cette semaine de neige.

Colorie : en vert : les périodes de déplacement en car  
en jaune : les périodes réservées aux repas  
en bleu : les périodes réservées aux leçons de ski  
en rouge : les moments de temps libre  
en gris : les moments réservés à la toilette corporelle

2. Avant et après les leçons de ski, une période reste libre.

Selon toi, quelle en est la raison ?

***La préparation du matériel, son rangement, ...***

3. A ton avis, que se passe-t-il le lundi entre 10 h 30 et 12 h 00 ?

***L'installation sur le lieu de séjour, la découverte de la station, ...***

Et le vendredi entre 13 h 30 et 17 h 00 ?

***La préparation des bagages, les derniers achats de souvenirs, ...***

4. Madame Pernelle souhaite organiser 10 heures d'activités scolaires au cours de cette semaine.

Trace des croix dans les plages horaires qu'elle pourrait utiliser.

***Diverses possibilités sur la grille horaire***

	Lundi	Mardi	Mercredi	Jeudi	Vendredi
07 h 30					
08 h 00					
08 h 30					
09 h 00					
09 h 30					
10 h 00					
10 h 30					
11 h 00					
11 h 30					
12 h 00					
12 h 30					
13 h 00					
13 h 30					
14 h 00					
14 h 30					
15 h 00					
15 h 30					
16 h 00					
16 h 30					
17 h 00					
17 h 30					
18 h 00					
18 h 30					
19 h 00					
19 h 30					
20 h 00					
20 h 30					
21 h 00					
21 h 30					

# Horaire de la classe de neige corrigé

	Lundi	Mardi	Mercredi	Jeudi	Vendredi
07 h 30					
08 h 00	Déplacement en car	Toilette	Toilette	Toilette	Toilette
08 h 30	Déplacement en car	Temps libre	Temps libre	Temps libre	Temps libre
09 h 00	Déplacement en car	Repas	Repas	Repas	Repas
09 h 30	Déplacement en car				
10 h 00	Déplacement en car	Ski	Ski	Ski	Ski
10 h 30	Déplacement en car	Ski	Ski	Ski	Ski
11 h 00		Ski	Ski	Ski	Ski
11 h 30		Ski	Ski	Ski	Ski
12 h 00	Repas	Repas	Repas	Repas	Repas
12 h 30	Repas	Repas	Repas	Repas	Repas
13 h 00	Temps libre	Temps libre	Temps libre	Temps libre	Temps libre
13 h 30			Déplacement en car		
14 h 00	Ski	Ski	Déplacement en car	Ski	
14 h 30	Ski	Ski	Visite	Ski	
15 h 00			Visite		
15 h 30			Visite		
16 h 00			Visite		
16 h 30			Visite		
17 h 00			Déplacement en car		
17 h 30			Déplacement en car		Déplacement en car
18 h 00	Temps libre	Temps libre	Temps libre	Temps libre	Déplacement en car
18 h 30	Douche	Douche	Douche	Douche	Déplacement en car
19 h 00	Repas	Repas	Repas	Repas	Déplacement en car
19 h 30	Repas	Repas	Repas	Repas	Déplacement en car
20 h 00	Veillée	Veillée	Veillée	Veillée	Déplacement en car
20 h 30	Veillée	Veillée	Veillée	Veillée	Déplacement en car
21 h 00					Déplacement en car
21 h 30					Déplacement en car



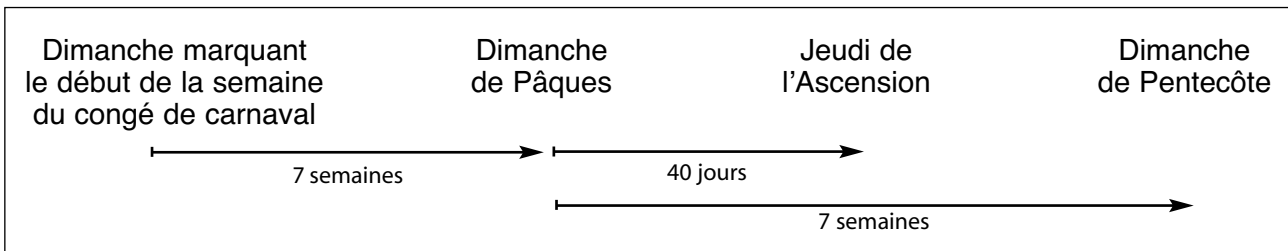
1. Complète :

<p><b>En 2012</b></p> <p>Le 1<sup>er</sup> janvier était ..... un dimanche</p> <p>Le 1<sup>er</sup> mai était ..... un _____</p> <p>Le 21 juillet était ..... un _____</p> <p>Le 27 septembre était ..... un _____</p> <p>Le 11 novembre était ..... un _____</p> <p>Le 25 décembre était ..... un _____</p>
--

<p><b>En 2016</b></p> <p>Le 1<sup>er</sup> janvier sera ..... un vendredi</p> <p>Le 1<sup>er</sup> mai sera ..... un _____</p> <p>Le 21 juillet sera ..... un _____</p> <p>Le 27 septembre sera ..... un _____</p> <p>Le 11 novembre sera ..... un _____</p> <p>Le 25 décembre sera ..... un _____</p>
--

<p><b>En 2020</b></p> <p>Le 1<sup>er</sup> janvier sera ..... un mercredi</p> <p>Le 1<sup>er</sup> mai sera ..... un _____</p> <p>Le 21 juillet sera ..... un _____</p> <p>Le 27 septembre sera ..... un _____</p> <p>Le 11 novembre sera ..... un _____</p> <p>Le 25 décembre sera ..... un _____</p>
--

2. Observe bien cette règle :



Complète maintenant ce tableau.

	Début du congé de carnaval	Pâques	Ascension	Pentecôte
En 2012	Samedi 18 février	Dimanche 8 avril	Jeudi 17 mai	Dimanche 27 mai
En 2014	Samedi 1 <sup>er</sup> mars	_____	_____	_____
En 2017	_____	_____	Jeudi 25 mai	_____
En 2020	_____	_____	_____	Dimanche 31 mai

# Des calendriers futurs

corrigé

1. Complète :

**En 2012**

Le 1<sup>er</sup> janvier était ..... un dimanche  
 Le 1<sup>er</sup> mai était ..... un **mardi**  
 Le 21 juillet était ..... un **samedi**  
 Le 27 septembre était ..... un **jeudi**  
 Le 11 novembre était ..... un **dimanche**  
 Le 25 décembre était ..... un **mardi**

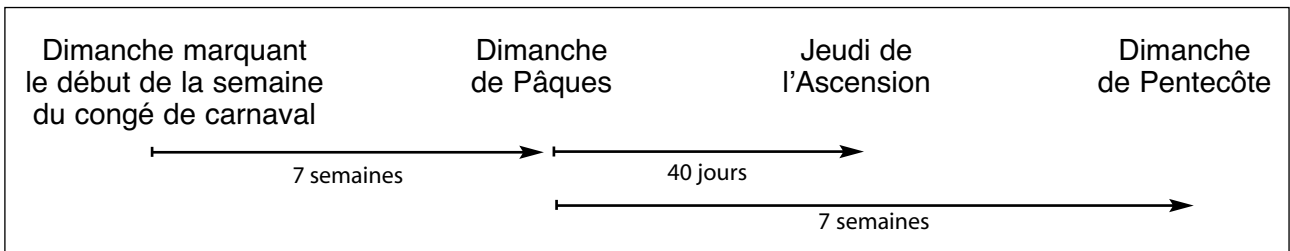
**En 2016**

Le 1<sup>er</sup> janvier était ..... un vendredi  
 Le 1<sup>er</sup> mai était ..... un **dimanche**  
 Le 21 juillet était ..... un **jeudi**  
 Le 27 septembre était ..... un **mardi**  
 Le 11 novembre était ..... un **vendredi**  
 Le 25 décembre était ..... un **dimanche**

**En 2020**


Le 1<sup>er</sup> janvier sera ..... un mercredi  
 Le 1<sup>er</sup> mai sera ..... un **vendredi**  
 Le 21 juillet sera ..... un **mardi**  
 Le 27 septembre sera ..... un **dimanche**  
 Le 11 novembre sera ..... un **mercredi**  
 Le 25 décembre sera ..... un **vendredi**

2. Observe bien cette règle :



Complète maintenant ce tableau.


	Début du congé de carnaval	Pâques	Ascension	Pentecôte
En 2012	Samedi 18 février	Dimanche 8 avril	Jeudi 17 mai	Dimanche 27 mai
En 2014	Samedi 1 <sup>er</sup> mars	<u><b>Dimanche 20 avril</b></u>	<u><b>Jeudi 29 mai</b></u>	<u><b>Dimanche 8 juin</b></u>
En 2017	<u><b>Samedi 25 février</b></u>	<u><b>Dimanche 16 avril</b></u>	Jeudi 25 mai	<u><b>Dimanche 4 juin</b></u>
En 2020	<u><b>Samedi 22 février</b></u>	<u><b>Dimanche 12 avril</b></u>	<u><b>Jeudi 21 mai</b></u>	Dimanche 31 mai

Pierre avait 2 ans et 3 jours à la naissance de Caroline.	Sylvie est plus jeune que Jacques de 45 jours exactement.	Jacques a vu le jour le 16 mars 1974.	
Martin a eu 65 ans le jour de la fête nationale belge.		Date d'aujourd'hui <b>2013</b> <b>14</b> Octobre Lundi St Juste	
Caroline fêtera son huitième anniversaire le 12 juin prochain.			

### 1. Complète ce tableau.

	Dates de naissance		
	Jour	Mois	Année
Martin			
Jacques			
Sylvie			
Pierre			
Caroline			

### 2. Sur cette portion de ligne du temps, place, le plus précisément possible, les dates des anniversaires des membres de cette famille. Emploie l'initiale de leur prénom pour les reconnaître.



### 3. Ecris la date du prochain anniversaire des personnes de cette famille.

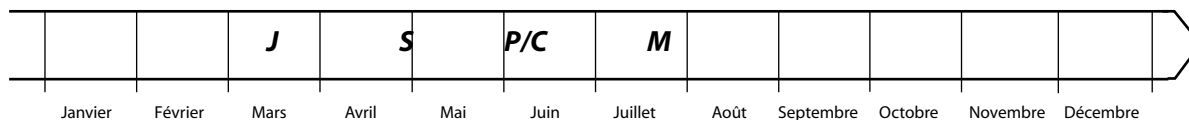
- Martin : \_\_\_\_\_
- Jacques : \_\_\_\_\_
- Sylvie : \_\_\_\_\_
- Pierre : \_\_\_\_\_
- Caroline : \_\_\_\_\_

Pierre avait 2 ans et 3 jours à la naissance de Caroline.	Sylvie est plus jeune que Jacques de 45 jours exactement.	Jacques a vu le jour le 16 mars 1974.
Martin a eu 65 ans le jour de la fête nationale belge.		Date d'aujourd'hui <b>2013</b> <b>14</b> Octobre Lundi St Juste
Caroline fêtera son huitième anniversaire le 12 juin prochain.		

### 1. Complète ce tableau.

	Dates de naissance		
	Jour	Mois	Année
Martin	<b>21</b>	<b>juillet</b>	<b>1948</b>
Jacques	<b>16</b>	<b>mars</b>	<b>1974</b>
Sylvie	<b>30</b>	<b>avril</b>	<b>1974</b>
Pierre	<b>9</b>	<b>juin</b>	<b>2004</b>
Caroline	<b>12</b>	<b>juin</b>	<b>2006</b>

### 2. Sur cette portion de ligne du temps, place, le plus précisément possible, les dates des anniversaires des membres de cette famille. Emploie l'initiale de leur prénom pour les reconnaître.



### 3. Ecris la date du prochain anniversaire des personnes de cette famille.

Martin : 21 juillet 2014

Jacques : 16 mars 2014

Sylvie : 30 avril 2014

Pierre : 9 juin 2014

Caroline : 12 juin 2014


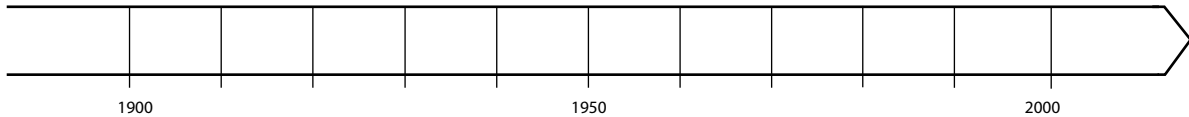
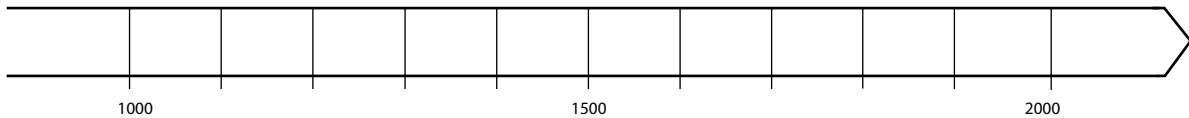
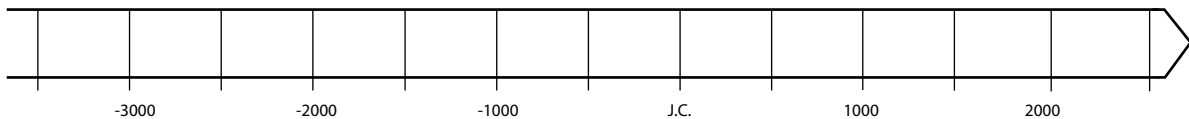


A Rome, le 25 mars 1957, la France, la République Fédérale d'Allemagne, l'Italie, la Belgique, les Pays-Bas et le Luxembourg signèrent le traité qui donnait naissance à la Communauté Economique Européenne (CEE).

Cet accord prévoyait l'abaissement progressif des droits de douane et la libre circulation des travailleurs entre les six partenaires.

Cet ensemble qu'on appela vite « marché commun » allait s'ouvrir peu à peu à d'autres pays pour former l'Union Européenne actuelle (UE).

Par un trait rouge, situe très exactement la date de signature du Traité de Rome (25 mars 1957) sur les lignes du temps de plus en plus précises.



**Peux-tu citer les partenaires actuels de l'Union Européenne ?**

---

---

---

---

---

# L'Europe en construction

corrigé

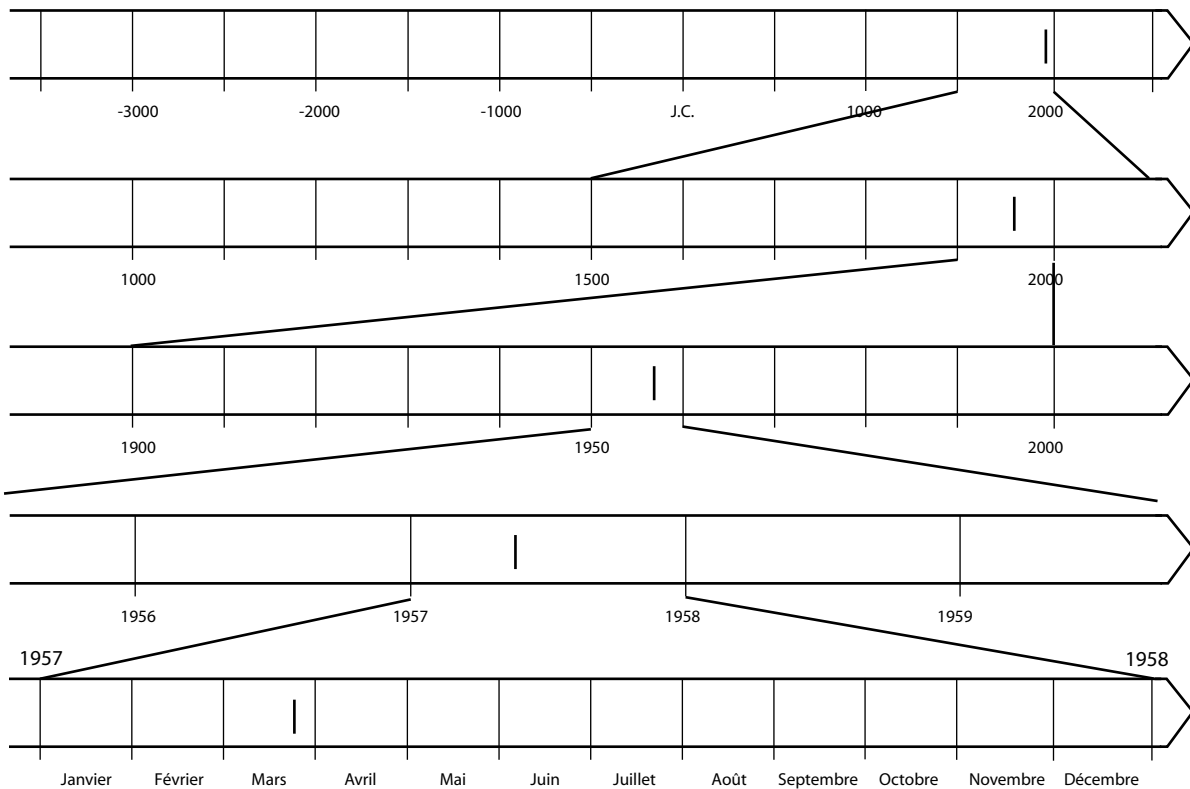


A Rome, le 25 mars 1957, la France, la République Fédérale d'Allemagne, l'Italie, la Belgique, les Pays-Bas et le Luxembourg signèrent le traité qui donnait naissance à la Communauté Economique Européenne (CEE).

Cet accord prévoyait l'abaissement progressif des droits de douane et la libre circulation des travailleurs entre les six partenaires.

Cet ensemble qu'on appela vite « marché commun » allait s'ouvrir peu à peu à d'autres pays pour former l'Union Européenne actuelle (UE).

Par un trait rouge, situe très exactement la date de signature du Traité de Rome (25 mars 1957) sur les lignes du temps de plus en plus précises.



**Peux-tu citer les partenaires actuels de l'Union Européenne ?**

***Allemagne, Autriche, Belgique, Bulgarie, Chypre, Croatie, Danemark,***

***Espagne, Estonie, Finlande, France, Grèce, Hongrie, Irlande, Italie,***


***Lettonie, Lituanie, Luxembourg, Malte, Pays-Bas, Pologne, Portugal,***

***République tchèque, Roumanie, Royaume-Uni, Slovaquie,***

***Slovénie, Suède***

<b>1. Léopold I<sup>er</sup></b> 16/12/1790 - 9/12/1865	<b>2. Léopold II</b> 9/4/1835 - 17/12/1909	<b>3. Albert I<sup>er</sup></b> 8/4/1875 - 17/2/1934
<b>4. Léopold III</b> 3/11/1901 - 25/9/1983	<b>5. Baudouin I<sup>er</sup></b> 7/9/1930 - 31/7/1993	<b>6. Albert II</b> 6/6/1934 - ____

1. Représente, par des traits successifs sur cette portion de ligne du temps, les vies des six rois que la Belgique indépendante a connus. Pour t'aider, tu peux lire ci-dessus leurs dates de naissance et de décès.



2. Observe bien tes représentations et réponds :

- Albert I<sup>er</sup> a-t-il connu son grand-père, Léopold I<sup>er</sup> ?    oui    -    non
- Léopold III a-t-il connu son grand-oncle, Léopold II ?    oui    -    non
- Albert II a-t-il connu son grand-père, Albert I<sup>er</sup> ?    oui    -    non

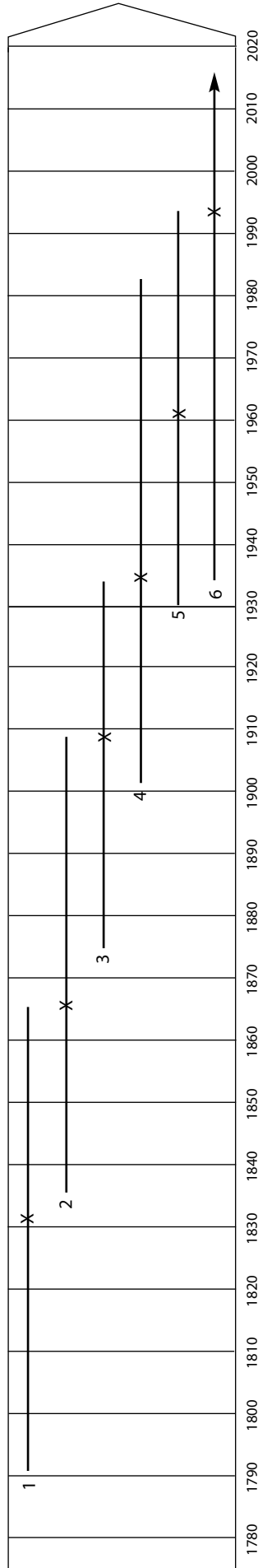
3. Voici, pour chacun d'eux, la date de leur intronisation.

**Marque-la par une petite croix rouge sur la ligne du temps de chacun (voir question 1).**

<b>Léopold I<sup>er</sup></b> Intronisé le 21/7/1831	<b>Léopold II</b> Intronisé le 17/12/1865	<b>Albert I<sup>er</sup></b> Intronisé le 23/12/1909
<b>Léopold III</b> Intronisé le 23/2/1934	<b>Baudouin I<sup>er</sup></b> Intronisé le 17/7/1951	<b>Albert II</b> Intronisé le 9/8/1993

<b>1. Léopold I<sup>er</sup></b> 16/12/1790 - 9/12/1865	<b>2. Léopold II</b> 9/4/1835 - 17/12/1909	<b>3. Albert I<sup>er</sup></b> 8/4/1875 - 17/2/1934
<b>4. Léopold III</b> 3/11/1901 - 25/9/1983	<b>5. Baudouin I<sup>er</sup></b> 7/9/1930 - 31/7/1993	<b>6. Albert II</b> 6/6/1934 - ____

1. Représente, par des traits successifs sur cette portion de ligne du temps, les vies des six rois que la Belgique indépendante a connus. Pour t'aider, tu peux lire ci-dessus leurs dates de naissance et de décès.



2. Observe bien tes représentations et réponds :

- Albert I<sup>er</sup> a-t-il connu son grand-père, Léopold I<sup>er</sup> ?    oui -  non
- Léopold III a-t-il connu son grand-oncle, Léopold II ?     oui - non
- Albert II a-t-il connu son grand-père, Albert I<sup>er</sup> ?    oui -  non

3. Voici, pour chacun d'eux, la date de leur intronisation.

**Marque-la par une petite croix rouge sur la ligne du temps de chacun (voir question 1).**

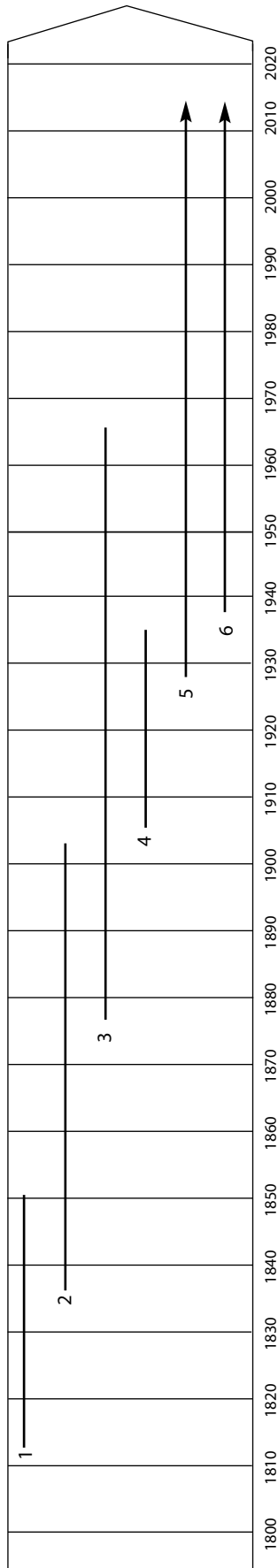
<b>Léopold I<sup>er</sup></b> Intronisé le 21/7/1831	<b>Léopold II</b> Intronisé le 17/12/1865	<b>Albert I<sup>er</sup></b> Intronisé le 23/12/1909
<b>Léopold III</b> Intronisé le 23/2/1934	<b>Baudouin I<sup>er</sup></b> Intronisé le 17/7/1951	<b>Albert II</b> Intronisé le 9/8/1993





- 1. Louise-Marie (L-M)
- 2. Marie-Henriette (M-H)
- 3. Elisabeth (E)
- 4. Astrid (A)
- 5. Fabiola (F)
- 6. Paola (P)

1. Sur cette portion de ligne du temps, représente maintenant, par des traits successifs numérotés de 1 à 6, les vies des six reines que la Belgique indépendante a connues.



2. En utilisant les initiales de chacune, situe maintenant leurs dates de naissance et de mort éventuelle dans le pays concerné.

	1800	1810	1820	1830	1840	1850	1860	1870	1880	1890	1900	1910	1920	1930	1940	1950	1960	1970	1980	1990	2000	2010	2020	
Suède																								
Portugal												A												
Espagne														F										
Italie															P									
Suisse															A									
Hongrie											M-H													
Autriche																								
Allemagne									E															
Luxembourg																								
Pays-Bas																								
France		L-M																						
Belgique						L-M					M-H								E					

## Lis attentivement ces renseignements concernant la famille royale belge.

1. Après vingt ans de règne, le Roi Albert II abdique le 21 juillet 2013 en faveur de son fils, le Prince Philippe.
2. La Princesse Elisabeth, **née en 2001**, est la fille du Roi Philippe (**1960 -** ) et de la Reine Mathilde (**1973 -** ). Elle a deux frères : Gabriel (**2003 -** ), Emmanuel (**2005 -** ) et une soeur : Eléonore (**2008 -** ).
3. Le Roi Philippe a une soeur, la Princesse Astrid (**1962 -** ) et un frère, le Prince Laurent (**1963 -** ). Ils sont les enfants du Roi Albert II (**1934 -** ) et de la Reine Paola (**1937 -** ).
4. Le Roi Albert II a une soeur, Joséphine-Charlotte (**1927 - 2005**) qui fut Grande-Duchesse du Luxembourg. Il avait aussi un frère à qui il a succédé, le Roi Baudouin I<sup>er</sup> (**1930 - 1993**). Baudouin était l'époux de la Reine Fabiola (**1928 -** ).
5. Joséphine-Charlotte, Baudouin et Albert sont les enfants du Roi Léopold III (**1901 - 1983** ) et de la Reine Astrid (**1905 - 1935**).
6. Léopold III avait un frère, Charles (**1903 - 1983**) et une soeur, Marie-José (**1906 - 2001**). Charles fut le régent du royaume de 1944 à 1950. Ils étaient les enfants du Roi Albert I<sup>er</sup> (**1875 - 1934**) et de la Reine Elisabeth (**1876 - 1965**).
7. Albert I<sup>er</sup> avait un frère et trois soeurs : Baudouin (**1869 - 1891**), Henriette (**1870 - 1948**), Joséphine (**1870 - 1871**) et Joséphine (**1872 - 1958**). Ils étaient les enfants de Philippe, Comte de Flandre (**1837 - 1905**) et de Marie, Princesse de Hohenzollern (**1845 - 1912**).
8. Le Roi Léopold II (**1835 - 1909**) avait épousé Marie-Henriette d'Autriche (**1836 - 1902**). De leurs quatre enfants, le seul fils, Léopold, est mort avant son dixième anniversaire. C'est le fils de son frère Philippe qui lui succéda.
9. Léopold II et Philippe étaient les enfants du Roi Léopold I<sup>er</sup> (**1790 - 1865**) et de la Reine Louise-Marie d'Orléans (**1812 - 1850**); ils eurent un autre frère, Louis-Philippe (**1833 - 1834**) et une soeur, Charlotte (**1840 - 1927**).

**Tu peux maintenant compléter la fiche B 13 qui représente l'arbre généalogique de la famille royale de notre pays.**

# La dynastie belge

---

## Lis attentivement ces renseignements concernant la famille royale belge.

1. Après vingt ans de règne, le Roi Albert II abdique le 21 juillet 2013 en faveur de son fils, le Prince Philippe.
2. La Princesse Elisabeth, **née en 2001**, est la fille du Roi Philippe (**1960 -** ) et de la Reine Mathilde (**1973 -** ). Elle a deux frères : Gabriel (**2003 -** ), Emmanuel (**2005 -** ) et une soeur : Eléonore (**2008 -** ).
3. Le Roi Philippe a une soeur, la Princesse Astrid (**1962 -** ) et un frère, le Prince Laurent (**1963 -** ). Ils sont les enfants du Roi Albert II (**1934 -** ) et de la Reine Paola (**1937 -** ).
4. Le Roi Albert II a une soeur, Joséphine-Charlotte (**1927 - 2005**) qui fut Grande-Duchesse du Luxembourg. Il avait aussi un frère à qui il a succédé, le Roi Baudouin I<sup>er</sup> (**1930 - 1993**). Baudouin était l'époux de la Reine Fabiola (**1928 -** ).
5. Joséphine-Charlotte, Baudouin et Albert sont les enfants du Roi Léopold III (**1901 - 1983** ) et de la Reine Astrid (**1905 - 1935**).
6. Léopold III avait un frère, Charles (**1903 - 1983**) et une soeur, Marie-José (**1906 - 2001**). Charles fut le régent du royaume de 1944 à 1950. Ils étaient les enfants du Roi Albert I<sup>er</sup> (**1875 - 1934**) et de la Reine Elisabeth (**1876 - 1965**).
7. Albert I<sup>er</sup> avait un frère et trois soeurs : Baudouin (**1869 - 1891**), Henriette (**1870 - 1948**), Joséphine (**1870 - 1871**) et Joséphine (**1872 - 1958**). Ils étaient les enfants de Philippe, Comte de Flandre (**1837 - 1905**) et de Marie, Princesse de Hohenzollern (**1845 - 1912**).
8. Le Roi Léopold II (**1835 - 1909**) avait épousé Marie-Henriette d'Autriche (**1836 - 1902**). De leurs quatre enfants, le seul fils, Léopold, est mort avant son dixième anniversaire. C'est le fils de son frère Philippe qui lui succéda.
9. Léopold II et Philippe étaient les enfants du Roi Léopold I<sup>er</sup> (**1790 - 1865**) et de la Reine Louise-Marie d'Orléans (**1812 - 1850**); ils eurent un autre frère, Louis-Philippe (**1833 - 1834**) et une soeur, Charlotte (**1840 - 1927**).

**Tu peux maintenant compléter la fiche B 13 qui représente l'arbre généalogique de la famille royale de notre pays.**

1. Sous chacune des photos de la fiche **T1**, écris la date à laquelle elle a été prise :

mai 1933 ou juin 2013.

Cite un élément qui t'a permis de dater ces photos.

Celle de 1933 : \_\_\_\_\_

Celle de 2013 : \_\_\_\_\_

2. Dans cette rue, bien des choses ont changé en 80 ans.

**Barre les affirmations fausses.**

Il y a plus d'automobiles en 2013.

On rencontre plus de piétons en 2013.

Le sens de la circulation a changé.

On voit plus de panneaux publicitaires en 2013.

Les trottoirs sont plus larges en 2013.

Le revêtement de la rue a changé.

3. Sur chaque photo, un détail t'indique la présence régulière d'un véhicule qu'on ne voit pas.

Quel véhicule en 1933 : _____	Quel véhicule en 2013 : _____
Quel détail le prouve : _____	Quel détail le prouve : _____

4. Un policier figure sur une des photos.

Cite deux éléments de son uniforme que les policiers ne portent plus aujourd'hui.

\_\_\_\_\_

5. Cite deux commerces de cette rue

en 1933

en 2013

\_\_\_\_\_

\_\_\_\_\_

\_\_\_\_\_

\_\_\_\_\_

# Les rues évoluent (suite).

corrigé

1. Sous chacune des photos de la fiche **T1**, écris la date à laquelle elle a été prise :

mai 1933 ou juin 2013.

Cite un élément qui t'a permis de dater ces photos.

Celle de 1933 : \_\_\_\_\_

Celle de 2013 : \_\_\_\_\_

**(Question ouverte)**

2. Dans cette rue, bien des choses ont changé en 80 ans.

**Barre les affirmations fausses.**

Il y a plus d'automobiles en 2013.

~~On rencontre plus de piétons en 2013.~~

Le sens de la circulation a changé.

~~On voit plus de panneaux publicitaires en 2013.~~

~~Les trottoirs sont plus larges en 2013.~~

Le revêtement de la rue a changé.

3. Sur chaque photo, un détail t'indique la présence régulière d'un véhicule qu'on ne voit pas.

Quel véhicule en 1933 : <u>un tramway</u>	Quel véhicule en 2013 : <u>un bus</u>
Quel détail le prouve : <u>les rails</u>	Quel détail le prouve : <u>l'inscription au sol</u>

4. Un policier figure sur une des photos.

Cite deux éléments de son uniforme que les policiers ne portent plus aujourd'hui.

son casque      sa pélerine

5. Cite deux commerces de cette rue

en 1933

bijouterie, magasin de meubles,

fleuriste, magasin de fourrure, ...

en 2013

restaurant, magasin de tissu,

commerce de vêtements, ...